



Hier siehst du eine Karte, auf der die erste Reihe, der im Favoritepark zu sehenden, Obstbäume aufgezeichnet ist. Deine Aufgabe ist es, die Form der Bäume, die du vom Weg aus erkennen kannst, einzuzichnen. Besonders die **Champagnerbirne** ist schon groß genug!

Drehe dein Blatt dafür um!




Hauxapfel



Rheinischer  
Bohnapfel



Champagnerbirne



Gaishirtle Birne



Warum werden im Favoritepark Obstbäume angepflanzt?

---

---